

Section I

3rd Language

Q. 1 to Q. 3 Read the passage carefully and answer the following questions.

Poseidon was the Greek god of the sea. He carried trident which was the symbol of his power. He split mountains with his trident and rolled the broken parts into the sea. He had a glittering palace in the depths of the Aegeon Sea.

1. Who was the Greek god of the sea ?

- (1) Poseidon (2) Greek
(3) Aegeon (4) Power

2. What did Poseidon carry ?

- (1) palace (2) trident
(3) depth (4) sea

3. The trident was the symbol of _____ .

- (1) idea (2) depth
(3) money (4) power

4. Choose the correct punctuation mark which is not present in the given box.

,	?
!	.

- (1) ? (2) !
(3) ; (4) .

Space for Rough Work

5. Complete the word register.

drum, cymbals, flute, _____

- (1) sieve
- (2) stain
- (3) tambourine
- (4) grater

6. Look at the greeting card. Read the message. Choose the proper date.


“Dear Teacher
We love you
So much !”
.....Your students.

- (1) On 5th September
- (2) On 15th August
- (3) On 2nd October
- (4) On 14th November

7. Find out the odd term.

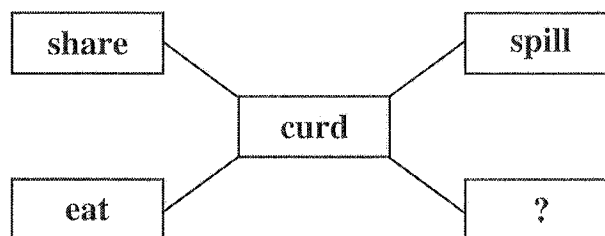
- (1) Cucumber
- (2) Fenugreek
- (3) Spinach
- (4) Coriander

8. Select the correct option.

The arrow  shows _____ direction.

- (1) right
- (2) upward
- (3) left
- (4) downwards

9. Select the proper action word.



- (1) wash
- (2) cut
- (3) peel
- (4) churn


Space for Rough Work

10. She eats breakfast _____ her parents.

- (1) off (2) by
(3) with (4) at

11. Choose the correct alternative.

Tools used by Mechanic.



- (1) roast (2) space
(3) cylinder (4) spanner

12. Select the correct answer.

How many letters should be capital in the given sentence.

i live in aurangabad.

- (1) 3 (2) 1
(3) 0 (4) 2

13. Solve the riddle.

I use a stethoscope and examine patients.

Who am I?

- (1) a mechanic (2) a potter
(3) a cobbler (4) a doctor

Space for Rough Work

14. Choose the correct punctuation mark for the given sentence.

What a great surprise.

- (1) Apostrophe (2) Exclamation mark
(3) Comma (4) Full Stop

15. Complete the motto.

_____ are our friends.

- (1) Library (2) Books
(3) Teacher (4) School

16. Arrange the numbers properly and make a meaningful word.

o	r	e	j	u	n	y
1	2	3	4	5	6	7

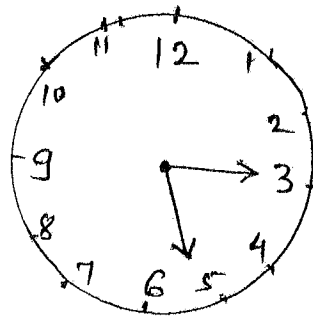
- (1) 1452673 (2) 4172635
(3) 4152637 (4) 1542637

17. Choose correct alternative to seek a permission.

- (1) I will open the window (2) Open the window
(3) Please open the window (4) May I open the window ?

18. Choose the correct option.

What time is it ?



- (1) Quarter past three
(2) Quarter past five
(3) Five past three
(4) Three past five

Space for Rough Work

19. Select the correct alternative

Let's make a _____ for shopping.


- (1) list (2) least
(3) lest (4) leest

20. Fill in the blank by using the correct article.

_____ Eiffel Tower is in Paris.

- (1) A (2) The
(3) An (4) No article

21. Look at the given picture. Choose the correct conversation.



- (1) A : The bubbles look so lovely !
B : Let's buy two.
- (2) A : Here are your potatoes. Would you like to buy tomatoes ?
B : Sure.
- (3) A : Please give us two full glasses.
B : Mamma, I want some ice in my juice.
- (4) A : Do you like roasted corn cobs ?
B : Oh, I love them with salt.

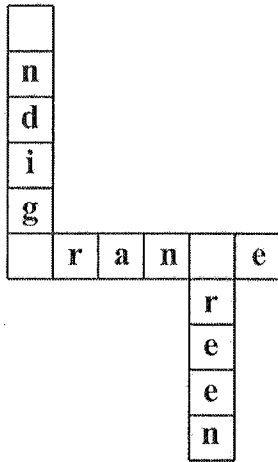
Space for Rough Work

22. Select the correct option.

My number is 12. So I am _____ in the row.

- (1) twelfth
- (2) twelfth
- (3) twelve
- (4) tweth

23. Complete the puzzle.



- (1) b, l, m
- (2) k, g, i
- (3) i, o, g
- (4) v, p, i

24. Choose the word that comes alphabetically first

- (1) Tuesday
- (2) Friday
- (3) Sunday
- (4) Monday

25. Choose the incorrect pair.

- (1) a tiny star
- (2) a rich man
- (3) a rainy day
- (4) a sharp day

Space for Rough Work

Section II

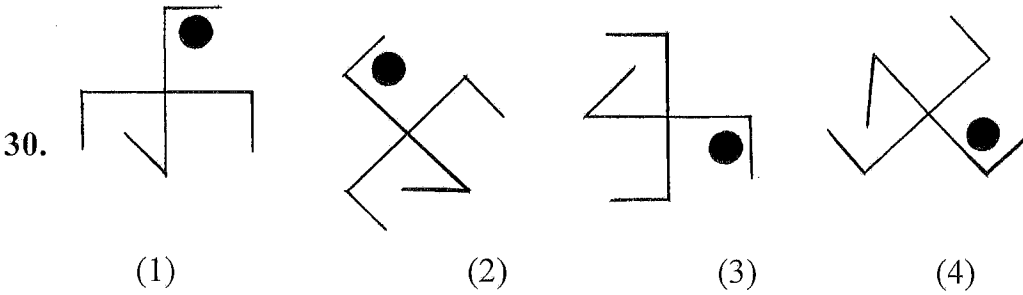
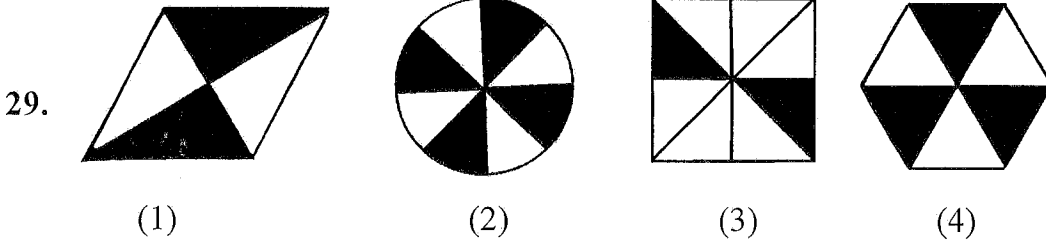
Intelligence Test

26. 'కమల, నగరం, గ్రహాలు, మరక, ప్రసాద్' ఈ ప్రతి పదంలోని మధ్యలో గల అక్షరాలను ఉపయోగించి అర్థవంతమైన పదమును తయారు చేయండి. తయారగు అర్థవంతమైన పదం యొక్క మధ్యన గల అక్షరం ఏది?

- (1) హా (2) సా (3) గ (4) ర

ప్రశ్న 27 నుండి 31 కొరకు సూచన: సమూహానికి చెందని పదమును గుర్తించండి.

27. (1) జరరం (2) అన్ననాళిక
(3) చిన్నపేగులు (4) ఊపిరితిత్తులు
28. (1) రాజస్థాన్ : గంగాపూర్ (2) మహారాష్ట్ర : పాటణే
(3) మధ్యప్రదేశ్ : భీమ్ బేటకా (4) గుజరాత్ : లాంగణజ్



31. (1) 153 (2) 136 (3) 102 (4) 115

Space for Rough Work

Section II

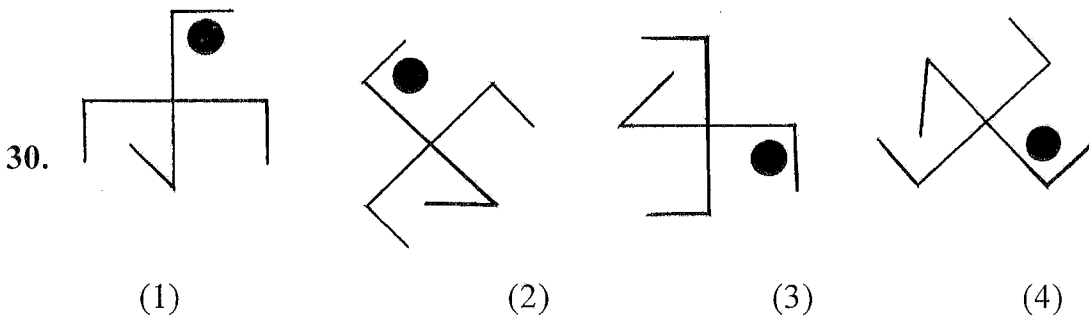
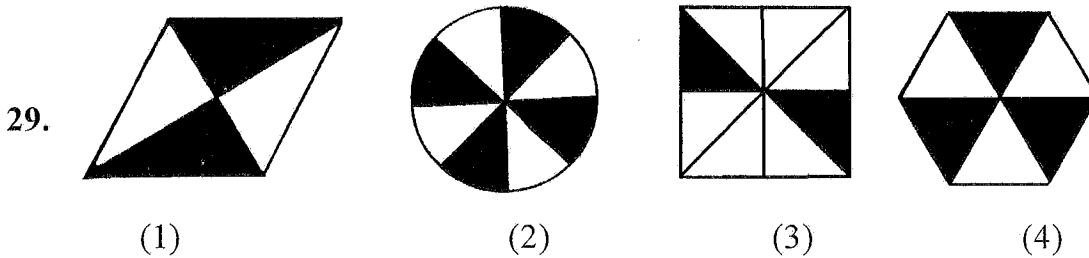
Intelligence Test

26. Make a meaningful word taking the second letter of the given words. 'PLAY, IVY, HENCE, SCORE, PEAR, FROG' From that meaningful word which letter will be at the 3rd place from right ?

- (1) E (2) V (3) L (4) R

Q27 to Q31 Direction: Find the odd term

27. (1) Stomach (2) Food Pipe
 (3) Small intestine (4) Lungs
28. (1) Rajasthan: Gangapur (2) Maharastra: Patane
 (3) Madhya Pradesh: Bhimbetka (4) Gujarat: Langhnaj



31. (1) 153 (2) 136 (3) 102 (4) 115

Space for Rough Work

శిఖ్షణే : ABCDE FGHIJ KLMNO PQRST UVWXYZ

32. కింది సంఖ్యామాలికలో ప్రశ్నచిహ్నము (?) స్థానంలో ఏ సంఖ్య వచ్చును?

13, 17, 25, 32, 37, ?

(1) 47 (2) 42 (3) 45 (4) 46

33. 'మిత్రుడు, సంఘము, పదము, రద్దీ, ప్రపంచము, పత్రము' ఈ పదాల సమూహంలో సంయుక్తాక్షరములు గల పదాల కన్న సంయుక్తాక్షరము లేని పదాలు ఎన్ని తక్కువ లేదా ఎక్కువ గలవు?

(1) 2 తక్కువ (2) 1 తక్కువ (3) 2 ఎక్కువ (4) 3 తక్కువ

34. ఏనుగును పులి, పులిని కుందేలు, కుందేలును సింహము, సింహమును ఆవు అని అన్నట్లైతే మన జాతీయ జంతువు దేన్ని అంటారు?

(1) పులి (2) ఏనుగు (3) కుందేలు (4) సింహము

ప్రశ్న 35 నుండి 39 కొరకు సూచన: ప్రశ్న ప్రారంభంలో మూడు పదాలు ఇవ్వబడినవి. వాటి కొన్ని ప్రత్యేకతల వలన, వాటి ఒక సమూహం ఏర్పడును. అయిన ఈ సమూహానికి చెందిన పదము పర్యాయాల నుండి నిశ్చయించండి.

35. పండు, పత్రిక, పుస్తకము, _____

(1) పువ్వులు (2) సినిమాలు (3) పుత్రిక (4) వార్తలు

36. ఇందిరా, సావిత్రి, పల్లవి, _____

(1) రాముడు (2) నళినీ (3) గణేష్ (4) సురేష్

37. 



(1) (2) (3) (4)

Space for Rough Work

Alphabets : A B C D E F G H I J K L M N O P Q R S T U V W X Y Z

32. Find the number which will replace the question mark (?) in the given number series.

13, 17, 25, 32, 37, ?

- (1) 47 (2) 42 (3) 45 (4) 46

33. 'Give me the strength lightly to bear my joys and sorrows.' In the statement how many times vowels have occurred ?

- (1) 13 times (2) 8 times (3) 7 times (4) 16 times

34. If calf is called cub, cub is called lamb, lamb is called kitten, kitten is called kid, kid is called puppy then what is the young ones of sheep called ?

- (1) kid (2) cule (3) kitten (4) pup

Q35 to Q39 Direction: In each of the following question three words are given with some common characteristics so their group is formed. Select a word from the options given, which has the same common feature of the given group.

35. Itching, Cough & Cold, Corn, _____

- (1) cold fever (2) cholera (3) measles (4) dysentery

36. Choir, heap, pile, _____

- (1) humming (2) crowd (3) march (4) mile

37.

H	H
---	---

 ,

A	V
---	---

 ,

E	E
---	---

T	T
---	---

C	J
---	---

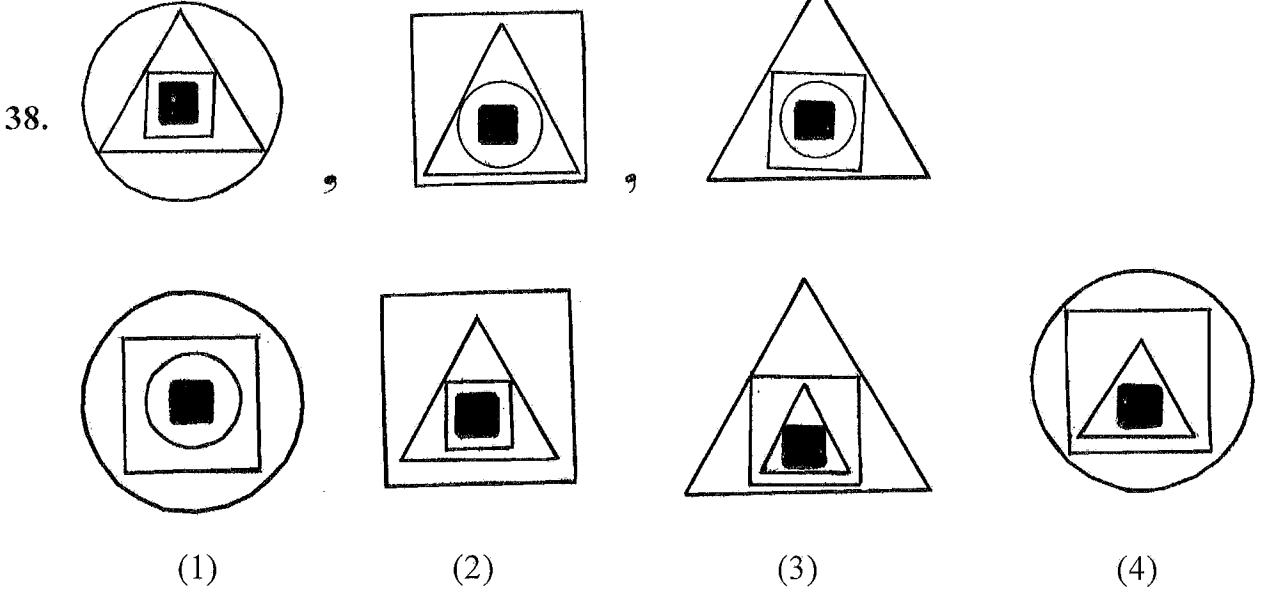
L	Γ
---	---

M	M
---	---

- (1) (2) (3) (4)

Space for Rough Work

జిల్లెలు : ABCDE FGHIJ KLMNO PQRST UVWXYZ



39 $2\frac{1}{4}, 4\frac{2}{8}, 3\frac{1}{4}$ _____

(1) $5\frac{4}{16}$

(2) $5\frac{1}{2}$

(3) $6\frac{2}{4}$

(4) $7\frac{1}{8}$

40. ఒక వరుసలో కవిత ముందు నుండి 28 వ మరియు చివరి నుండి 32 వ క్రమంలో కలదు. అదే వరుసలో మధ్యలో గల సువర్ణ వెనుకాల మనీషా నిలబడి వుంది. సువర్ణ మరియు మనీషా వీరి మధ్య 10 మంది అమ్మాయిలు గలరు. అయిన వరుసలో మనీషా యొక్క క్రమము చివరి నుండి ఎన్నవది?

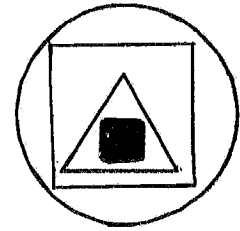
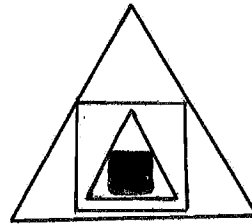
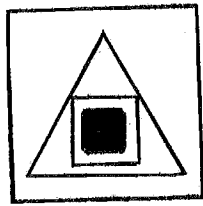
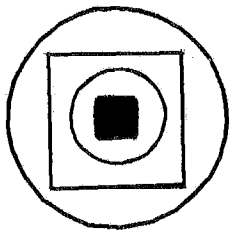
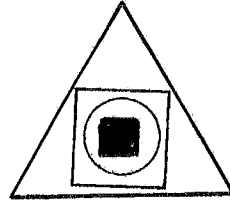
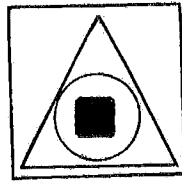
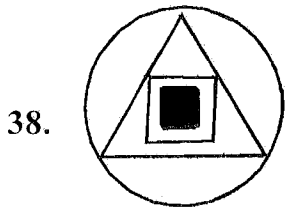
(1) 20 వది

(2) 18 వది

(3) 40 వది

(4) 19 వది

Space for Rough Work



(1)

(2)

(3)

(4)

39 $2\frac{1}{4}, 4\frac{2}{8}, 3\frac{1}{4}$ _____

(1) $5\frac{4}{16}$

(2) $5\frac{1}{2}$

(3) $6\frac{2}{4}$

(4) $7\frac{1}{8}$

40. In a queue Kavita's position is 28th from the start and 32rd from the last. In the same queue Manisha is standing behind Suvarna who is standing in the middle position of the row. In between Suvarna and Manisha there are 10 girls then what will be the order of Manisha from the last ?

(1) 20th

(2) 18th

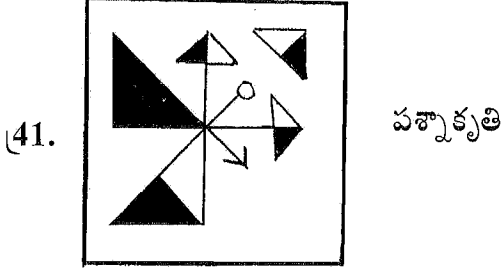
(3) 40th

(4) 19th

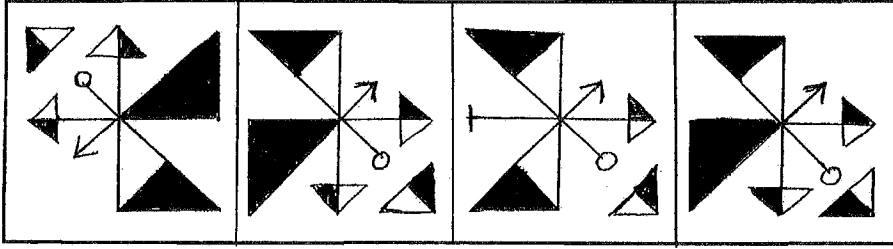
Space for Rough Work

శిబ్బిల్లే : ABCDE FGHIJ KLMNO PQRST UVWXYZ

ప్రశ్న 41 మరియు 42 కొరకు సూచన: కింద ఇవ్వబడిన ప్రశ్నాకృతి యొక్క ప్రతిబింబం నీటిలో ఎలా కనబడునో గుర్తించండి.



జవాబు ఆకృతి




(1)

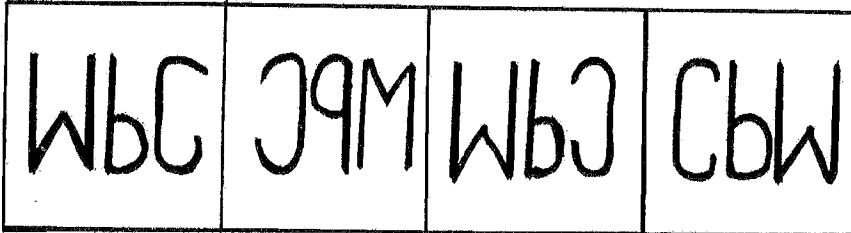
(2)

(3)

(4)



జవాబు ఆకృతి



(1)

(2)

(3)

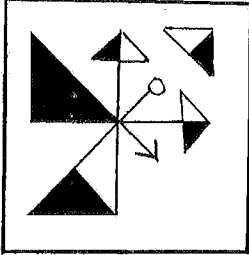
(4)

Space for Rough Work

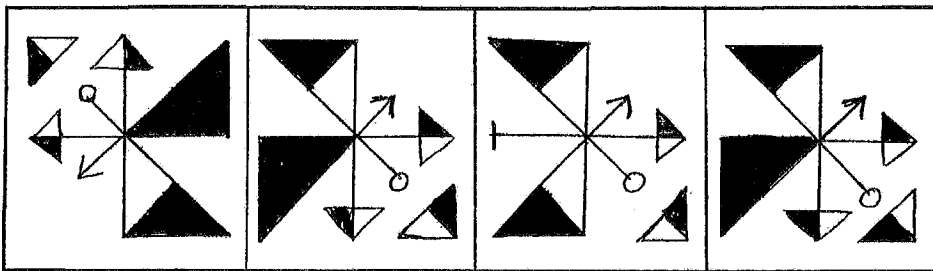
Alphabets : ABCDE FGHIJ KLMNO PQRST UVWXYZ

Q41. and Q42 Direction: If the question figure is held vertical above water surface, identify its water reflection and select the correct alternative.

41. Question figure



Answers figures




(1)

(2)

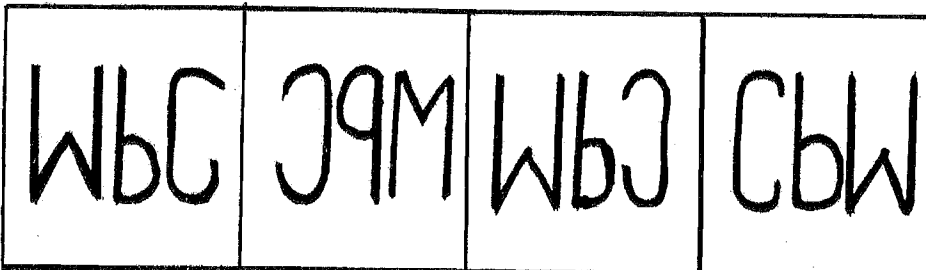
(3)

(4)

42. Question figure



Answers figures



(1)

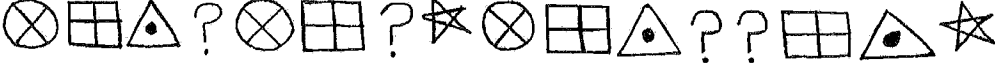



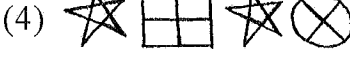

(2)

(3)

(4)

Space for Rough Work

శిబ్బినే : ABCDE FGHIJ KLMNO PQRST UVWXYZ

43. సూర్యోదయం అవుతున్నప్పుడు విశ్వాస్ నడుచుటకు మొదలుపెట్టినపుడు సూర్యుడు అతడి ఎదురువైపు ఉండెను. రెండు కిలోమీటర్లు నడిచిన తర్వాత అతడు లంబకోణంగా తిరిగెను. కొద్దిదూరం నడిచాక మరల కుడివైపు లంబంగా తిరిగినట్లైతే అతడి ఎడమచేయి దిశ ఏది?
 (1) తూర్పు (2) పడమర (3) ఉత్తరం (4) దక్షిణం
44. కవిత, సవిత మరియు సలమా వీరి వయసుల మొత్తం 4 సంవత్సరాల క్రితం 28 సంవత్సరములు కలదు. అయిన 4 సంవత్సరాల తర్వాత వారి వయసుల మొత్తం ఎన్ని సంవత్సరాలుండును?
 (1) 32 (2) 40 (3) 36 (4) 52
45. సుయశ్ క్రికెట్ మరియు ఫుట్ బాల్ ఆడుతాడు, రాజేంద్ర కేవలం హాకీ ఆడుతాడు, శైలేష్ ఫుట్ బాల్ మరియు కబడ్డీ ఆడుతాడు మరియు దీపక్ ఫుట్ బాల్ తప్ప మిగిలిన ఆటలన్నీ ఆడుతాడు. అయిన కబడ్డీ ఆటను ఆడేవారు ఎవరు?
 (1) దీపక్ మరియు రాజేంద్ర (2) కేవలం శైలేష్
 (3) సుయశ్ మరియు శైలేష్ (4) దీపక్ మరియు శైలేష్
46. కింద ఇవ్వబడిన చిహ్నాలమాలికలో ప్రశ్న చిహ్నము స్థానంలో ఏ చిహ్నాల సమూహం వచ్చును?

 (1)  (2) 
 (3)  (4) 
47. 1 జూన్ 1976 లో స్థాపించిన విద్యాలయం యొక్క 'సువర్ణ మహోత్సవం' ఎప్పుడు జరుపుకొందురు?
 (1) 1 జూన్ 2001 (2) 1 జూన్ 2036 (3) 1 జూన్ 2026 (4) 1 జూన్ 2025
48. కింది ఆకృతిలో మొత్తం ఎన్ని చతుర్భుజాలు కలవు?

 (1) 15 (2) 21
 (3) 90 (4) 120
49. కింది ప్రశ్నమాలికలో తప్పు పదమును గుర్తించండి.
 3, 11, 27, 57, 123, 251
 (1) 123 (2) 57 (3) 27 (4) 11

Space for Rough Work

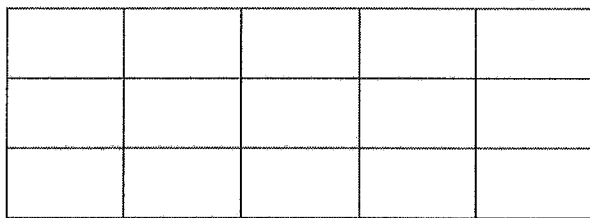
Alphabets : A B C D E F G H I J K L M N O P Q R S T U V W X Y Z

43. During the sunrise, Vishwas started walking that time the sun was to his left. He walked 2 km and turned 90° to his right. Again he walked for a while and turned 90° to his right, then which direction is to his left now ?
 (1) East (2) West (3) North (4) South
44. Total ages of Kavita, Savita and Salma four years before was 28 years, then what will be the total of their ages four years hence ?
 (1) 32 (2) 40 (3) 36 (4) 52
45. Suyash plays cricket and football, Rajendra plays only hockey, Shailesh plays football and Kabaddi and Deepak plays all sports except football, then who play Kabaddi ?
 (1) Deepak and Rajendra (2) Only Shailesh
 (3) Suyash and Shailesh (4) Deepak and Shailesh
46. Which group of symbols will occur at the place of question mark in the given series of symbols ?



- (1) (2)
 (3) (4)

47. 'Golden Jubilee' celebrations of the school will be on which day whose 'Foundation Day' is 1st June, 1976 ?
 (1) 1 June 2001 (2) 1 June 2036 (3) 1 June 2026 (4) 1 June 2025
48. How many squares are there in the given figure ?



- (1) 15 (2) 21 (3) 90 (4) 120
49. Find the odd term of the given number series.
 3, 11, 27, 57, 123, 251
 (1) 123 (2) 57 (3) 27 (4) 11

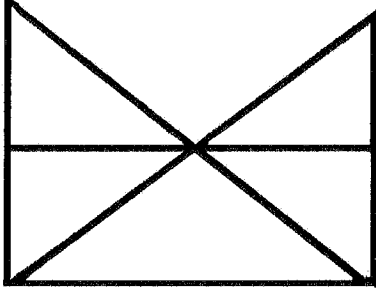
Space for Rough Work

శిఖ్షణ : ABCDE FGHIJ KLMNO PQRST UVWXYZ

50. 2015 సంవత్సరంలో 'స్వాతంత్ర్య దినోత్సవం' ఆదివారము ఉండెను. అయిన 2016 సంవత్సరములో 'విద్యా దినోత్సవము' ఏ రోజున ఉండెను?

- (1) శనివారము (2) బుధవారము (3) ఆదివారము (4) శుక్రవారము

51. కింది ఆకృతిలో త్రిభుజాలు మరియు చతుర్భుజాలు అనుక్రమంగా ఎన్ని గలవు?



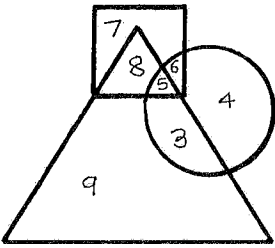
- (1) 11 మరియు 7 (2) 9 మరియు 5 (3) 11 మరియు 5 (4) 11 మరియు 3

52. కింది సంఖ్యామాలికలో ప్రశ్నచిహ్నము స్థానంలో ఏ సంఖ్య వచ్చును?

121, 169, 225, 289 ?

- (1) 334 (2) 400 (3) 246 (4) 361

53. కింది ఆకృతిలో వృత్తంలో మైదానం పరిశుభ్రము చేయు విద్యార్థులను, త్రిభుజంలో తోట శుభ్రము చేయు విద్యార్థులను మరియు చతురస్రంలో తరగతులను శుభ్రము చేయు విద్యార్థులను చూపబడింది. ఆకృతిని పరిశీలించి అడిగిన ప్రశ్నలకు జవాబులను పర్యాయాల నుండి గుర్తించండి.



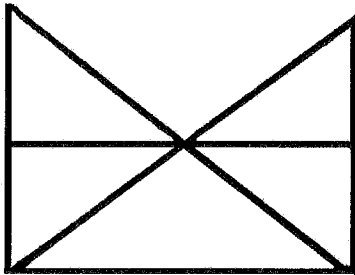
కేవలం మైదానం మరియు తోట శుభ్రం చేయు విద్యార్థులెందరు?

- (1) 3 (2) 7 (3) 6 (4) 5

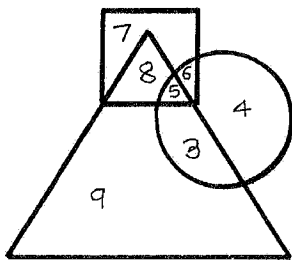
Space for Rough Work

Alphabets : A B C D E F G H I J K L M N O P Q R S T U V W X Y Z

50. In 2015, Independence Day was on Sunday. On which day 'Literacy Day' will fall in the year 2016?
(1) Saturday (2) Wednesday (3) Sunday (4) Friday
51. Each of the alternatives given below the figure indicate the number of triangles and quadrilaterals respectively. Observe the figure and choose the correct option.



- (1) 11 and 7 (2) 9 and 5 (3) 11 and 5 (4) 11 and 3
52. Which number will replace the question mark in the given number series.
121, 169, 225, 289 ?
(1) 334 (2) 400 (3) 246 (4) 361
53. In the given Venn diagram the students who clean the ground are shown in the circle, those who clean the garden are shown in the triangle and those who clean the classrooms are shown in the square. Observe the figure and answer the question by choosing the correct alternative.




How many students clean only ground and the garden ?

- (1) 3 (2) 7 (3) 6 (4) 5

Space for Rough Work

శిల్పం : ABCDE FGHIJ KLMNO PQRST UVWXYZ

54. కింద ఇవ్వబడిన ఆకృతిలో మొత్తం ఎన్ని ఘనకాఠ ముక్కలు గలవు?



(1) 7


(2) 19

(3) 16

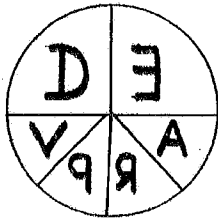
(4) 20

ప్రశ్న 55 మరియు 56 కొరకు సూచన: ప్రశ్నలో ప్రశ్నాకృతి యొక్క ప్రతిమ అద్దంలో ఎలా కనబడునో పర్యాయాల నుండి గుర్తించండి.

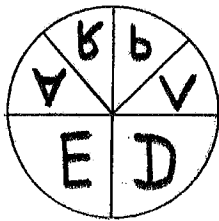
55. ప్రశ్నాకృతి



జవాబు ఆకృతి



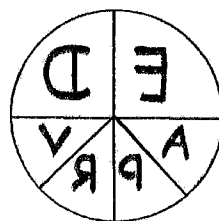
(1)



(2)




(3)



(4)

Space for Rough Work


54. How many cubicle boxes are there in the given figure ?



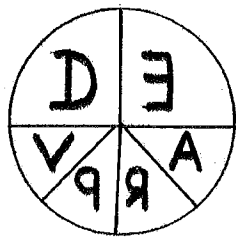
- (1) 7 (2) 19 (3) 16 (4) 20

Q55 and Q56 Direction: Find out the mirror image of each of the following question figure from the alternatives given.

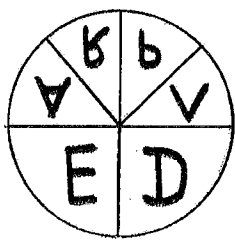
55. Question figure



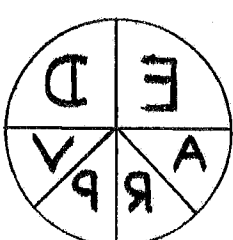
Answers figures



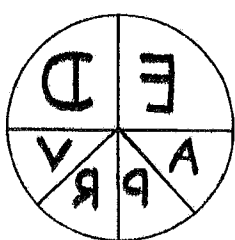
(1)



(2)



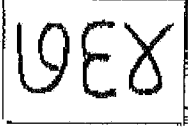
(3)



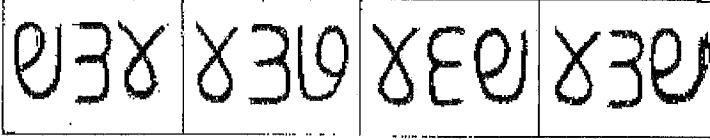
(4)

Space for Rough Work

56. ప్రస్థాకృతి



జవాబు ఆకృతి



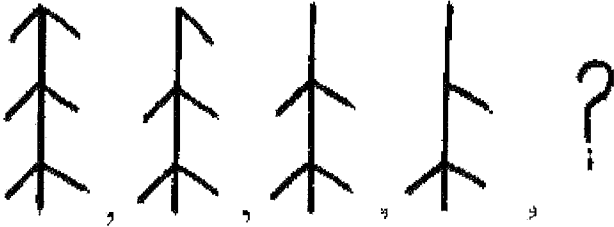
(1) (2) (3) (4)

57. కింద ఇవ్వబడిన వెన్ ఆకృతి ఏ పర్యాయంలోని అంశములకు సంబంధించింది గుర్తించండి.

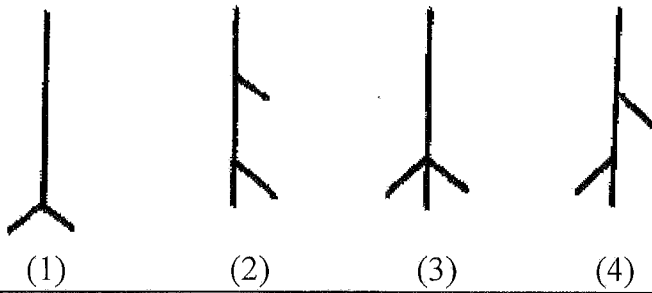


- (1) అన్నఘటకాలు, పిండి పదార్థాలు, గోధుమలు
- (2) భారతదేశం, మహారాష్ట్ర, కర్ణాటక
- (3) ఆట, క్రికెట్, బ్యాట్‌బాల్
- (4) తెలంగాణ, రాజస్థాన్, గోవా

58. కింది ఆకృతిలో ఒక ప్రత్యేకమైన క్రమము గలదు. ఆ క్రమమును గుర్తుంచుకొని ప్రశ్నచిహ్నము స్థానంలో ఏ ఆకృతి వచ్చునో గుర్తించండి.



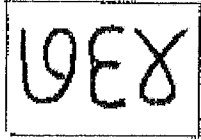
జవాబు ఆకృతి



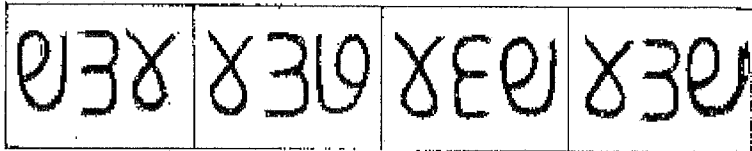
(1) (2) (3) (4)

Space for Rough Work

56. Question figure



Answers figures



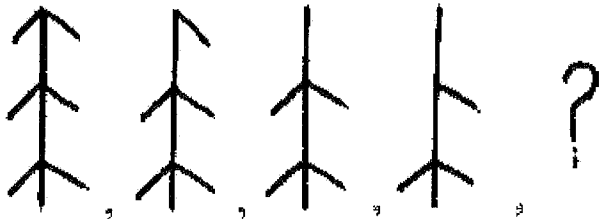
(1) (2) (3) (4)

57. Select the alternative which will match exactly to the Venn diagram given in the question.

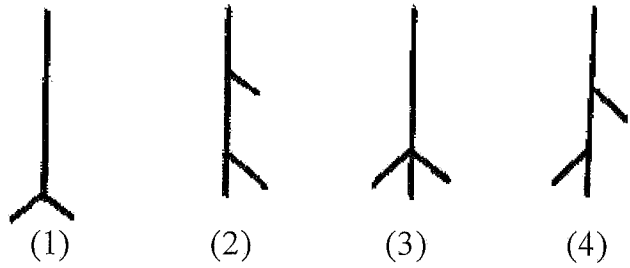


- (1) Components of food, starchy food, Wheat
- (2) India, Maharashtra, Karnataka
- (3) Sport, Cricket, Batball
- (4) Telangana, Rajasthan, Goa

58. In the given figures there is a specific order. Observe the order and find out the figure to replace the question mark.



Answers figures



(1) (2) (3) (4)

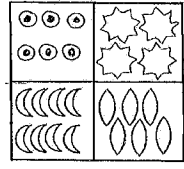
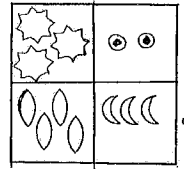

Space for Rough Work

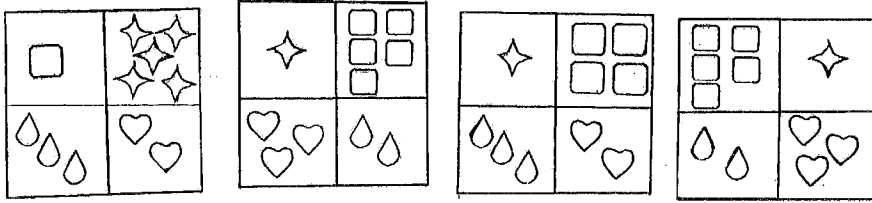
శిల్పశ్రేణి : ABCDE FGHIJ KLMNO PQRST UVWXYZ

ప్రశ్న 59 నుండి 63 కొరకు సూచన: కింది ప్రశ్నలలో మొదటి మరియు రెండవ పదాల మధ్య గల సంబంధాన్ని గుర్తించండి. అదే సంబంధము మూడవ మరియు నాలుగవ పదాలకు గలదు. అయిన ప్రశ్న చిహ్నము స్థానంలో ఏ పర్యాయము వచ్చునో గుర్తించండి.

59.  : ఓడరేవు :  : ?


- (1) కోట (2) దీపస్తంభం (3) వాయుమార్గం (4) గని

60.  :  ::  : ?



- (1) (2) (3) (4)

61.  ::  : ?

- (1)  (2) 
 (3)  (4) 

62. 8 : 504 :: 6 : ?

- (1) 222 (2) 216 (3) 210 (4) 209

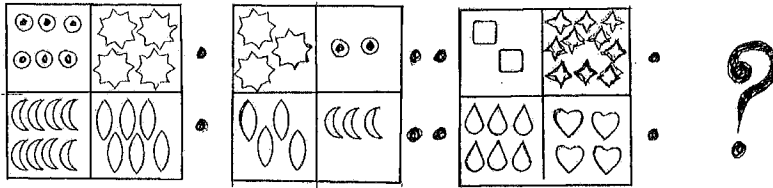
Space for Rough Work

Q59 to Q63 Direction: In the following question the first and second figure have a specific relationship between them. The same relationship exists between the third and the fourth figure. Find the correct figure from the alternatives to replace the question mark.

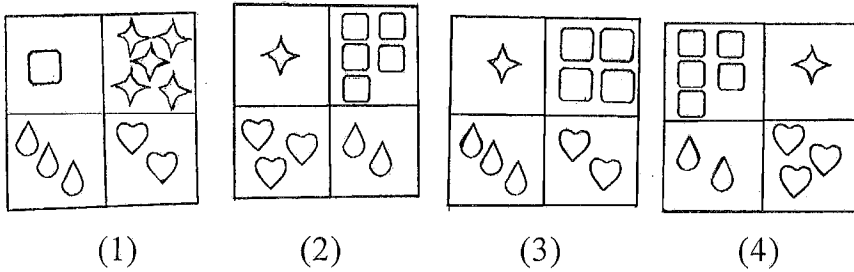


- (1) Fort (2) Lighthouse (3) Airways (4) Mine

60. Question figure



Answers figures



- (1)  (2) 
- (3)  (4) 

62. 8 : 504 :: 6 : ?

- (1) 222 (2) 216 (3) 210 (4) 209

Space for Rough Work

శిల్పన : ABCDE FGHIJ KLMNO PQRST UVWXYZ

63. 241 : 4124 :: 372 : ?

- (1) 6218 (2) 3214 (3) 6148 (4) 6281

64. 7, 8, 3, 2, 5, 6, 4, 2, 8, 7, 2, 3, 6, 8, 9, 4, 6

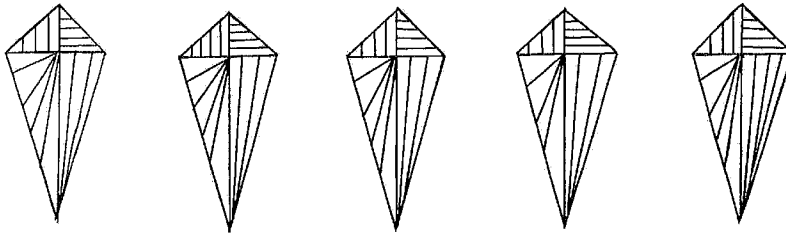
పై సంఖ్యమాలికలో సరిసంఖ్య తర్వాత ప్రక్కనే సరిసంఖ్య మరియు సరిసంఖ్యకు ముందు బేసిసంఖ్య ఇలా ఎన్నిసార్లు వచ్చాయి?

- (1) రెండు (2) మూడు (3) నాలుగు (4) ఒకటి

ప్రశ్న 65 నుండి 66 కొరకు సూచన: కింది ప్రశ్నాకృతి వలె అచ్చము ఉన్నదిఉన్నట్లు గల ఆకృతిని పర్యాయాల నుండి గుర్తించండి.


65 ప్రశ్నాకృతి

జవాబు ఆకృతి

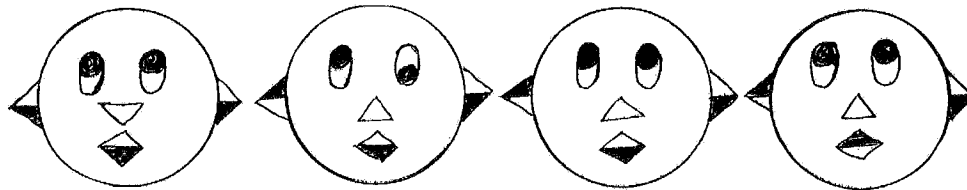


- (1) (2) (3) (4)

66. ప్రశ్నాకృతి



జవాబు ఆకృతి



- (1) (2) (3) 4(4)

Space for Rough Work

63. 241 : 4124 :: 372 : ?

- (1) 6218 (2) 3214 (3) 6148 (4) 6281

64. In the given series, how many times even number is preceded by odd number and is immediately followed by an even number

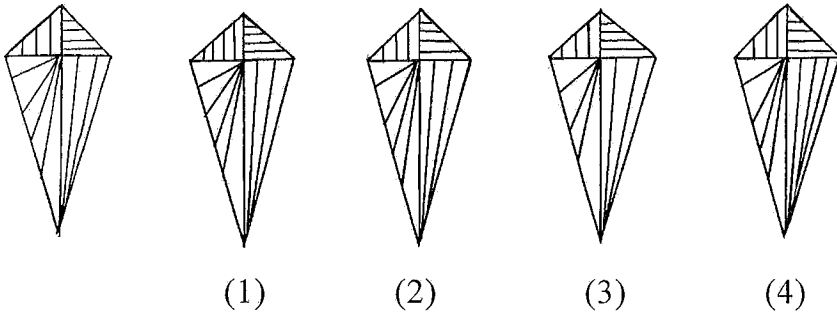
7, 8, 3, 2, 5, 6, 4, 2, 8, 7, 2, 3, 6, 8, 9, 4, 6

- (1) two (2) three (3) four (4) one


Q65 and Q66 Direction: Find out the figures which exactly matches with the question figure from the four alternative figures given below.

65 Question

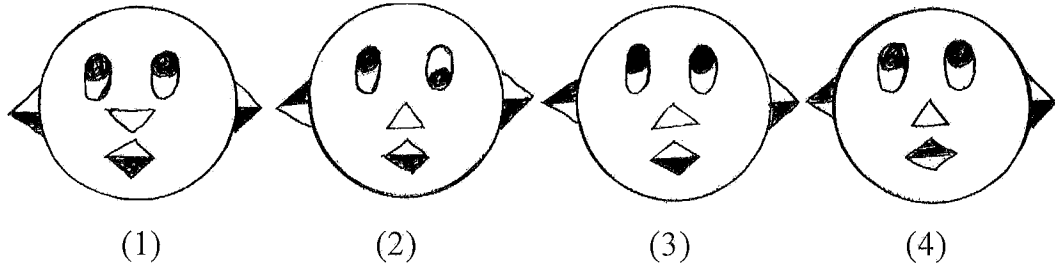
Answers



66. Question figure



Answers figures



Space for Rough Work

శీఘ్రస్థ : ABCDE FGHIJ KLMNO PQRST UVWXYZ

67. ABCDE FGHIJ KLMNO PQRST UVWXY

పై ఇంగ్లీష్ అక్షరమాలికలో కుడివైపు నుండి 15వ అక్షరము ఏది?

- (1) O (2) L
(3) K (4) P

68. ప్రశ్నచిహ్నము స్థానంలో ఏ సంఖ్య వచ్చునో పర్యాయాల నుండి గుర్తించండి.

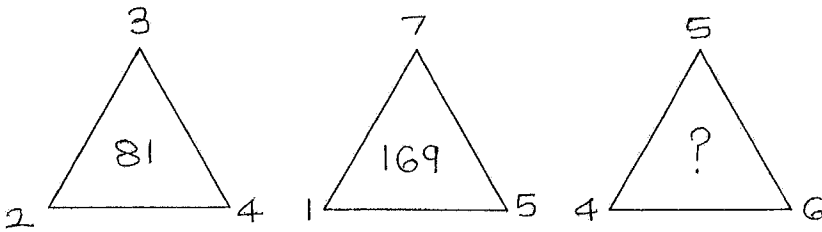
5	3	16
6	4	?
7	2	45

- (1) 25 (2) 10
(3) 61 (4) 20

69. ఒక సాంకేతిక భాషలో 2 ను 5, 3 ను 4 మరియు 7 ను 9 అని అన్నట్లైతే $3 + 2 \times 7 =$ ఎంత?

- (1) 17 (2) 49
(3) 35 (4) 81

70. ప్రశ్నచిహ్నము (?) స్థానంలో ఏ సంఖ్య వచ్చునో పర్యాయాల నుండి గుర్తించండి.



- (1) 225 (2) 196
(3) 256 (4) 235

Space for Rough Work

Alphabets : ABCDE FGHIJ KLMNO PQRST UVWXYZ

67. ABCDE FGHIJ KLMNO PQRST UVWXY

In the given alphabetical series which is the 15th letter from the right end ?

- (1) O (2) L
(3) K (4) P

68. Which number from the alternatives will replace the question mark in the box ?

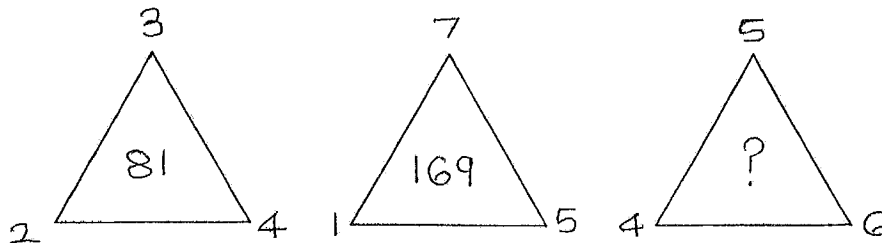
5	3	16
6	4	?
7	2	45

- (1) 25 (2) 10
(3) 61 (4) 20

69. In a code language 2 is called 5, 3 is called 4 and 7 is called 9 then $3 + 2 \times 7 =$ how much ?

- (1) 17 (2) 49
(3) 35 (4) 81

70. Choose the correct option to replace the (?) question mark.



- (1) 225 (2) 196
(3) 256 (4) 235

Space for Rough Work









శిల్పం : ABCDE FGHIJ KLMNO PQRST UVWXYZ

71. ఒక సాంకేతిక భాషలో పవన = 456, వజన = 542 మరియు నళ = 74 అయిన 'జళజళ' పదము ఎలా రాస్తారు?













(సూచన: అంకెల మరియు అక్షరాల క్రమము ఒకే విధంగా ఉంటుందని చెప్పలేము.)




- (1) 4747 (2) 4444
(3) 2424 (4) 2727

ప్రశ్న 72 మరియు 73 కొరకు సూచన: అక్షరం మరియు చిహ్నాల పట్టికను పరిశీలించి ప్రశ్నలకు సమాధానాలు రాయండి.

చ	ఢ	ర	వ	గ	హ	దీర్ఘం	ఎత్వం
							

72. 'చెహరా' పదము ఏ చిహ్నాలతో చూపబడింది?

- (1)  ||   = (2)  =   ||
(3)  ||   || (4)  ||   =

73. ' =   ||' ఈ చిహ్నాలతో ఏ పదము తయారగును?

- (1) గాఢవ (2) గెఢవా
(3) గాఢవె (4) గాఢెవ

74. ఉపాధ్యాయుడు నీ మిత్రుడి వ్యాసరచన చూసి చాలా మెచ్చుకొన్నాడు. అయితే నీవు ఏమి చేస్తావు?

- (1) ఉపాధ్యాయుడిని తప్పు పడతాను. (2) మిత్రుడితో మాట్లాడను.
(3) మిత్రుడిని అభినందిస్తాను. (4) నా వ్యాసరచననే బాగుందని అందరితో చెప్పగలను.

75. సరస్సు కలుషితం కాకుండా ఉండడానికి కింది వాటిలో ఏ కృత్యము సరియైనది?

- (1) సరస్సులో స్నానం చేయడం. (2) సరస్సులో బట్టలు ఉతకకుండా ఉండడం.
(3) సరస్సు ప్రక్కన మలవిసర్జనాలు చేయడం. (4) సరస్సులో జంతువులను కడగడం.

Space for Rough Work

Alphabets : A B C D E F G H I J K L M N O P Q R S T U V W X Y Z

71. In a code language TIN is written as 456 FIN is written as 542 and NO is written as 74 then how to write FONT is the same language ?

- (1) 4526 (2) 6245
(3) 2657 (4) 2746

(Note - Letters and numbers are not necessarily in order)

Q72 and Q73 Direction: Observe the table of letters and symbols and answer the question given below:

R	S	T	E	M	A	O	Y
☆	□	⊙	×	△	⊗	=	

72. Which symbol will be used to write the word 'MAYOR' ?

- (1) △ ⊗ || = ☆ (2) × △ ⊗ = ||
(3) △ ⊗ = ☆ || (4) ⊙ □ × = ☆

73. Which word will be formed by using the symbols '□ ⊙ × ⊗ △ × ☆'?

- (1) STEEMER (2) STEEMAR
(3) STEAMER (4) STAEMER

74. What will you do if your teacher appreciates the essay written by your friend ?

- (1) will not talk to the teacher (2) will not talk to your friend
(3) will congratulate your friend (4) will tell everyone that only your essay is good.

75. Which activity you think is correct to prevent the water reservoir from getting polluted ?

- (1) To bathe in the reservoir (2) Not to wash clothes
(3) Sit near the reservoir for toilet (4) To bathe the animals

Space for Rough Work

Space for Rough Work